



Worksheet No: 3

KARNATAKA STATE BOARD

AUTHOR: Nishchal J

DATE OF CREATION: 05-03-2021

CLASS: 6



SUBJECT: Math

LESSON: Chapter 5 - Understanding Elementary Shapes

TOPIC: Measuring Angles- The Protractor

No of hours taken: 2

ಕೊನಮಾಪಕವನ್ನು ಉಪಯೋಗಿಸಿ ಅಳತೆಮಾಡಿ ಬರೆಯಿರಿ





eVidyaloka

To Educate - Anywhere Anytime

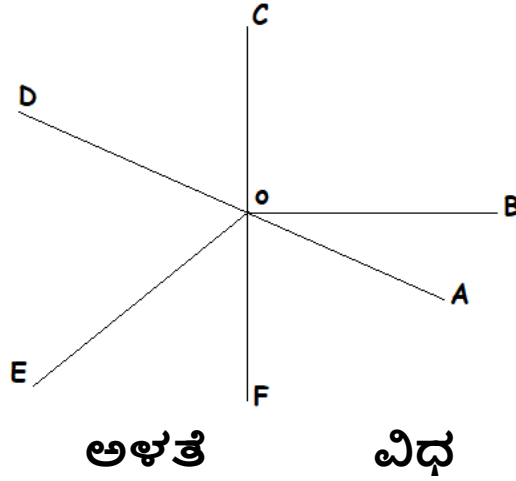


5.



6.

ಕೊನಗಳನ್ನು ಅಳತೆಮಾಡಿ ವರ್ಗೀಕರಿಸಿ



7. $\angle AOB$
8. $\angle AOC$
9. $\angle FOC$
10. $\angle EOB$
11. $\angle FOB$

12. ಕೊನಮಾಪಕವನ್ನು ಉಪಯೋಗಿಸಿ ಅಳತೆಮಾಡಬಲ್ಲ ಅತೀ ಸಣ್ಣ ಅಳತೆ ಎಷ್ಟು ?

13. ಅಮನ್ 5 ಕಿ.ಮೀ ಉತ್ತರಕ್ಕೆ, ನಂತರ 3 ಕಿ.ಮೀ ಪೂರ್ವಕ್ಕೆ, ನಂತರ 4 ಕಿ.ಮೀ ತನ್ನ ಬಲಕ್ಕೆ ಹೋದರೆ, ತನ್ನ ಆರಂಭಿಕ ಸ್ಥಾನಕ್ಕೆ ಸಂಬಂಧಿಸಿದಂತೆ ಅವನು ಯಾವ ಕೊನದಲ್ಲಿದ್ದಾನೆ ?