



Worksheet No. 2

JHARKHAND STATE BOARD

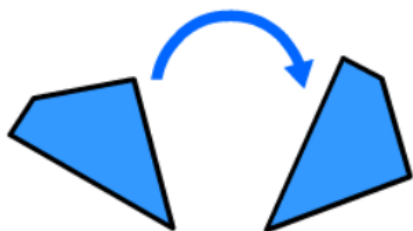
**AUTHOR:** Dhruvi Shah  
**CLASS:** 5  
**LESSON:** Chapter 10-Symmetry

**DATE OF CREATION:** 11/06/21  
**SUBJECT:** Maths  
**TOPIC:** Symmetry

1. क्या इस तस्वीर में घूर्णनात्मक सममिति है?



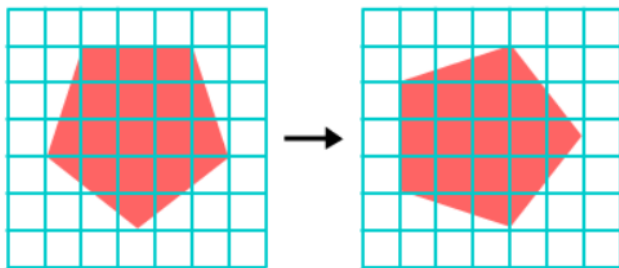
2. जांचें कि निम्नलिखित आकार घुमाया गया है या नहीं ?



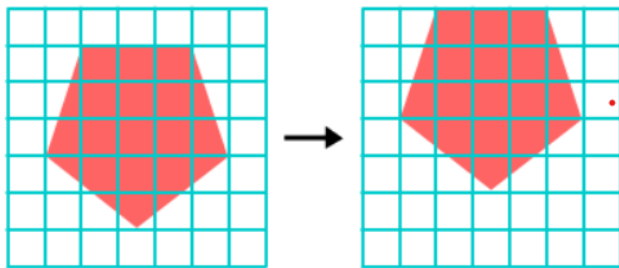


3 निम्नलिखित विकल्पों में से कौन सा रोटेशन दिखाता है?

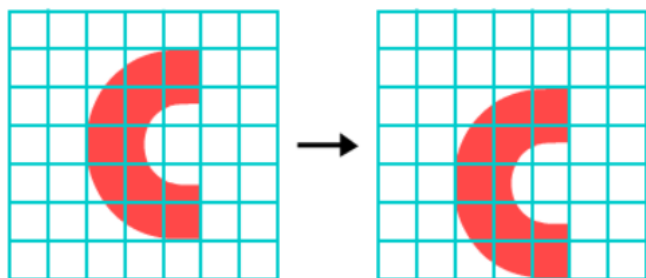
A



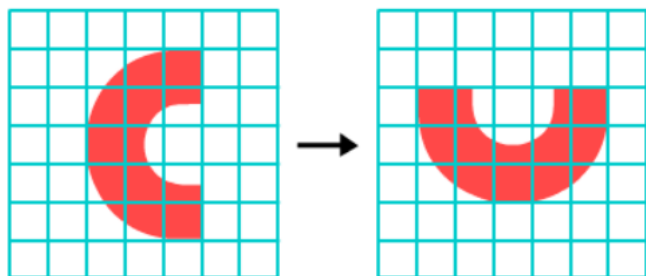
B



A




B



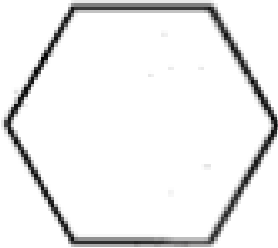


4. आयत की घूर्णनात्मक सममिति का क्रम है?

5. चौथाई और आधा घुमाने पर नीचे दी गई आकृतियाँ कैसी दिखाई देगी । उनका चित्र बनाइ  
a)



b)



6- फैन  $1/4$  टर्न घुमाने पर कैसा दिखता है?



eVidyaloka  
To Educate ~ Anywhere Anytime

