



Worksheet No. 1

JHARKHAND STATE BOARD

AUTHOR: Yash Bhargava

CLASS: 6

LESSON: Angles

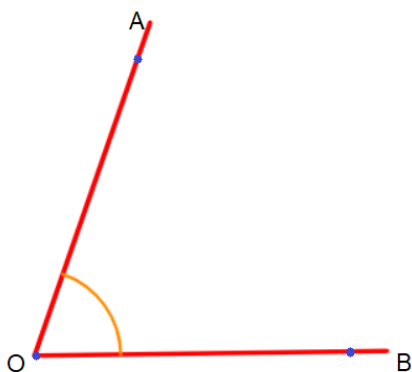
DATE OF CREATION: June 9, 2021

SUBJECT: Mathematics

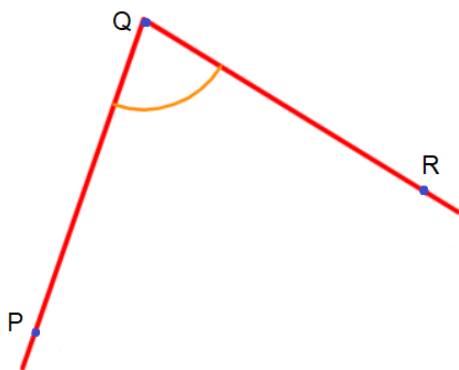
TOPIC: Introduction, Interior and Exterior of an Angle

1 दी गई प्रत्येक कोण की आकृति में शीर्ष और कोण की भुजाओं का नाम लिखिए ।

(In each of the following figures of an angle write the names of the vertex and the arms of the angle.)



(i)

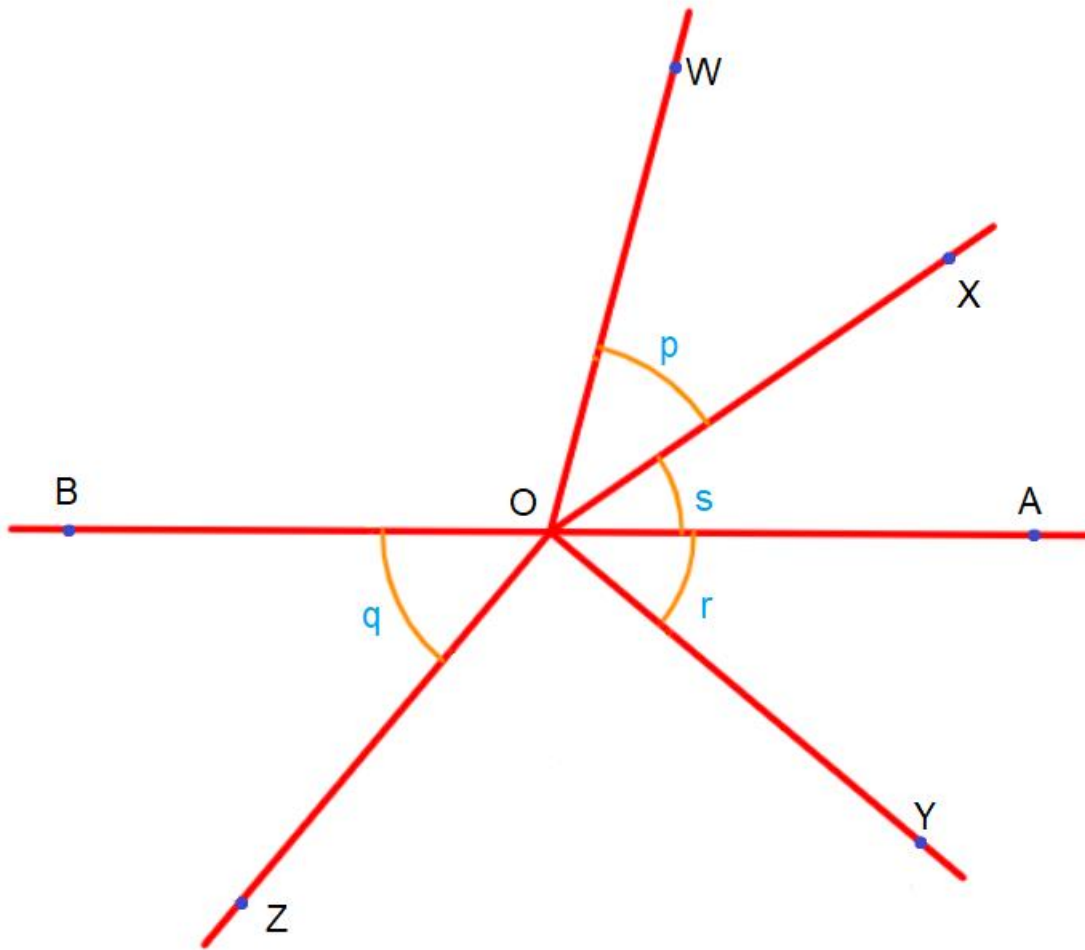


(ii)



2 दी गई आकृति में कोणों के नाम लिखिए जिन्हें p , q , r एवं s से दर्शाए गए हैं।

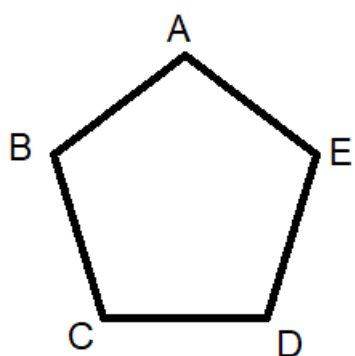
(In the given figure write the names of the angles which are marked as p , q , r and s .)



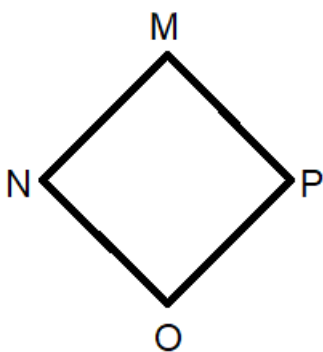


3 दी गई प्रत्येक आकृति में सभी कोणों और भुजाओं का नाम लिखिए ।

(In each figure list the names of all the angles and arms)



(i)



(ii)



eVidyaloka

To Educate - Anywhere Anytime

4 सही विकल्प चुने |

(Choose the correct option)

i दी गई आकृति में कितने कोण दर्शाए गए हैं ?

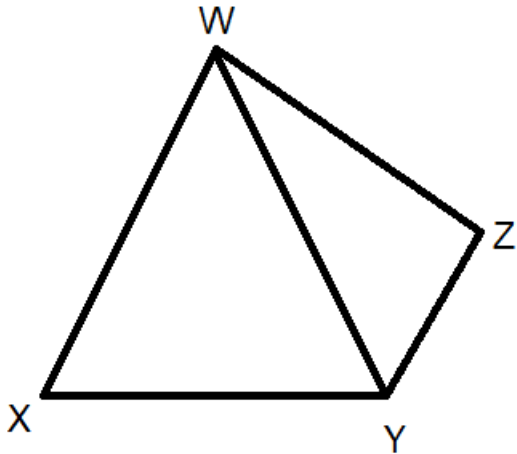
(In the given figure, how many angles are there?)

a) 8

b) 6

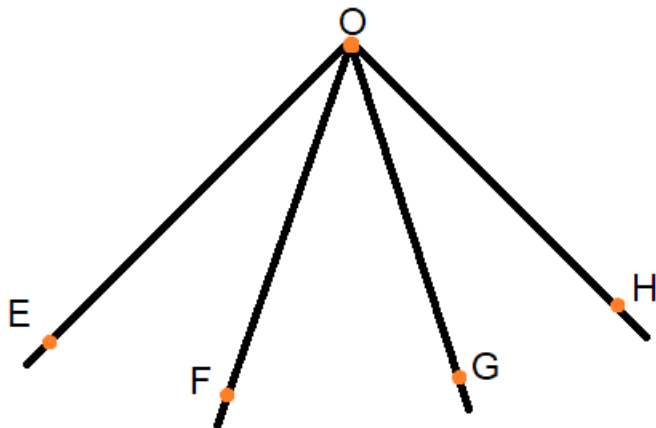
c) 4

d) 10



ii दी गई आकृति में कितने कोण दर्शाए गए हैं ?

(In the given figure, how many angles are there?)



a) 3

b) 5

c) 6

d) 7

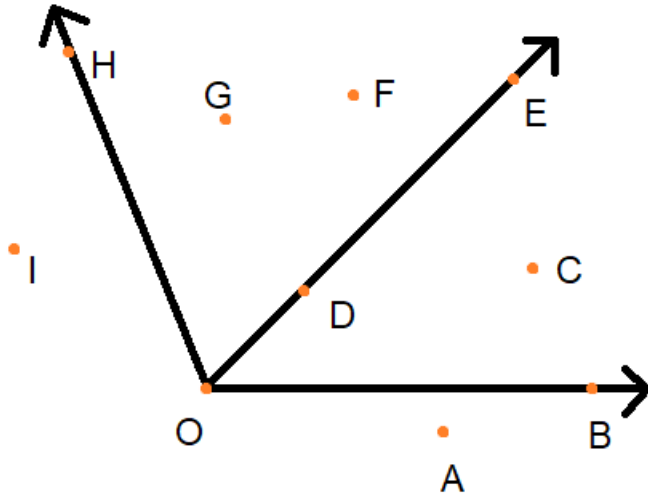


eVidyaloka

To Educate ~ Anywhere Anytime

5 दी गई आकृति में उन बिंदुओं का नाम लिखिए जो :

(In the given figure, write the names of points that :)



i $\angle BOE$ पर स्थित हैं | (lie on $\angle BOE$)

ii $\angle BOE$ के बहिर्भाग में स्थित हैं | (lie in the exterior of $\angle BOE$)

iii $\angle EOH$ के अन्तःभाग में स्थित हैं | (lie in the interior of $\angle EOH$)